

المعلم : نور الدين بن خضر	المدرسة الابتدائية شارع بورقيبة رأس الجبل
المادة : تاريخ	اختبار الثلاثي الأول
التوقيت : 30 دقيقة	اسم التلميذ ولقبه : .....
العدد : .. / 20	القسم : السادسة ..... العدد الرتبي : .....

المسند : عند انجاز بحث حول تاريخ تونس بداية من القرن السادس عشر فوجئ عمر بكم الهائل من المعلومات والتواريخ.


التعليمة 1 : أرتب مع عمر الأحداث حسب تسلسلها الزمني بكتابة الأرقام من 1 إلى 6

قيام الدولة الحسينية	.....
الهجرة الأندلسية إلى تونس	.....
إهمال السلطان الحفصي لشؤون الدولة	.....
تونس تصبح دولة عثمانية	.....
الحماية الإسبانية على تونس	.....

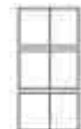
التعليمة 2 : أكتب الشخصية التاريخية بما يُعرفها في المكان المناسب

السلطان الحفصي / حسين بن علي / حمودة ياشا / سنان باشا / خير الدين بربروس.

الأحداث المميزة لحكم كل شخصية	الشخصية
استعان بالاسبان لتثبيت ملكه	.....
مؤسس الدولة الحسينية تمت مبايعته في 1705 م	.....
أطرد الإسبان من تونس	.....
هو قرصان تركي مهد لانتصاب الأتراك في تونس.	.....
عرفت الدولة الحسينية في عهده أوج قوتها	.....



مع 1




مع 2

التعليمة 3 : أكتب الكلمة المناسبة " صواب " أو " خطأ "

- من العوامل الأساسية لتركيز الدولة الحسينية انتعاش الحياة الاقتصادية .....
- إن الجالية الأندلسية التي حلت بتونس في القرن 17 كان عددها قليلا .....
- ازدهرت البلاد التونسية في أواخر العهد الحفصي .....
- يعتبر حمودة باشا الحسيني من أشهر البايات في عهد الدولة الحسينية . .....
- هاجر الأندلسيون إلى تونس هروبا من بطش الاسبان. ....

التعليمة 4 :

أذكر مناطق استقر بها الأندلسيون ببلادنا



...../1

...../2

...../3

أفاد الأندلسيون بلادنا في عدة ميادين من بينها :

- الميدان الصناعي : .....
  - الميدان المعماري : .....
- اذكر مثلا على الاقل في كل ميدان .

جدول إسناد الأعداد

المجموع	تميز	معايير الحد الأدنى				المعايير
		المجموع	مع 3	مع 2	مع 1	مستويات التملك
	مع 4		مع 3	مع 2	مع 1	انعدام التملك (- - -)
	0		0	0	0	دون التملك الأدنى (- - +)
	2 - 1		2 - 1	2 - 1	2 - 1	التملك الأدنى (- + +)
	3		3	3	3	التملك الأقصى (+ + +)
20	5 - 4		5 - 4	5 - 4	5 - 4	